



Dedicated Freight Corridor Corporation of India Ltd.

A Government of India (Ministry of Railways) Enterprise

डेडीकेटेड फ्रेट कोरीडोर

Participant ID	
Participant Name	
Test Center Name	iON Digital Zone iDZ3 Patliputra
Test Date	30/09/2021
Test Time	12:30 PM - 2:30 PM
Subject	Junior Executive (Operations and BD)

Section : General Knowledge

Q.1 कुतुब मीनार की पहली मंजिल का निर्माण \_\_\_\_\_ द्वारा किया गया था।

- Ans
- 1. मुहम्मद तुगलक
  - 2. कुतबउद्दीन ऐबक
  - 3. अलाउद्दीन खिलजी
  - 4. इल्तुतमिश

Question ID : 2752289822  
Status : Answered  
Chosen Option : 1

Q.2 कमेचा \_\_\_\_\_ वाद्य है।

- Ans
- 1. तत्
  - 2. अवनद्ध
  - 3. सुषिर
  - 4. घन

Question ID : 2752289819  
Status : Not Answered  
Chosen Option : --

Q.3 जून 2021 में विश्व टेस्ट चैंपियनशिप के फाइनल में कौन सी दो टीमों खेलीं थीं?

- Ans
- 1. भारत तथा ऑस्ट्रेलिया
  - 2. ऑस्ट्रेलिया तथा न्यूजीलैंड
  - 3. भारत तथा न्यूजीलैंड
  - 4. ऑस्ट्रेलिया तथा इंग्लैंड

Question ID : 2752289830  
Status : Answered  
Chosen Option : 3

Q.4 निम्नलिखित में से कौन सी पुस्तक आरबीआई के पूर्व गवर्नर उर्जित पटेल द्वारा लिखी गई है?

- Ans
- 1. टर्न अराउंड इंडिया: 2020- सर्माउंट पास्ट लेगेसी
  - 2. फ़ोम इक्रीमेंट टू एक्सपोनेंशियल
  - 3. लॉकडाउन लिएसॉस
  - 4. ओवरड्राफ्ट: सेविंग द इंडियन सेवर

Question ID : 2752289825  
Status : **Marked For Review**  
Chosen Option : 1

Q.5 ए.आर. रहमान बाफ्टा ब्रेकथ्रू इंडिया एंबेसडर बन गये हैं। वह किस क्षेत्र से जुड़े हैं?

- Ans
- 1. नाटक
  - 2. साहित्य
  - 3. संगीत
  - 4. खेल

Question ID : 2752289826  
Status : **Answered**  
Chosen Option : 3

Q.6 पूर्वी घाट की औसत ऊँचाई \_\_\_\_\_ कि.मी. है।

- Ans
- 1. 1400
  - 2. 1200
  - 3. 600
  - 4. 200

Question ID : 2752289821  
Status : **Not Attempted and Marked For Review**  
Chosen Option : --

Q.7 Which of the following is correct?

- Ans
- 1. Net Investment = Gross Investment – Interest
  - 2. Net Investment = Gross Investment – Depreciation
  - 3. Net Investment = Gross Investment + Interest
  - 4. Net Investment = Gross Investment + Depreciation

Question ID : 2752289820  
Status : **Not Attempted and Marked For Review**  
Chosen Option : --

Q.8 सुशील चंद्रा ने भारत के \_\_\_\_\_ मुख्य निर्वाचण आयुक्त के रूप में पदभार ग्रहण किया है।

- Ans  1. 24वें  
 2. 25वें  
 3. 21वें  
 4. 22वें

Question ID : 2752289827

Status : **Not Attempted and Marked For Review**

Chosen Option : --

Q.9 नासा के इनसाइट लैंडर ने किस ग्रह पर दो मजबूत स्पष्ट भूकंपों का पता लगाया है?

- Ans  1. शुक्र  
 2. नेपच्यून  
 3. मंगल  
 4. शनि

Question ID : 2752289824

Status : **Answered**

Chosen Option : 3

Q.10 भारत के प्रथम मुख्य न्यायाधीश कौन थे?

- Ans  1. हरिलाल जे. कनिया  
 2. ए. के. सरकार  
 3. मेहरचंद महाजनी  
 4. एस. आर. दास

Question ID : 2752289823

Status : **Answered**

Chosen Option : 1

Q.11 मार्च 2021 में, केंद्रीय रिजर्व पुलिस बल (सी.आर.पी.एफ.) के नए महानिदेशक के रूप में किसे नियुक्त किया गया है ?

- Ans  1. सौरभ गर्ग  
 2. अरुण कुमार सिंह  
 3. अजय माथुरी  
 4. कुलदीप सिंह

Question ID : 2752289828

Status : **Answered**

Chosen Option : 2

Q.12 भारतीय संविधान का 125 वां संशोधन किस वर्ष में हुआ था?

- Ans  1. 2017  
 2. 2019  
 3. 2016  
 4. 2015

Question ID : 2752289829

Status : Marked For Review

Chosen Option : 1

Section : Numerical ability

Q.1 नीचे दी गई तालिका पाँच विभिन्न वस्तुओं A, B, C, D तथा E के अंकित मूल्य और बिक्री मूल्य को दर्शाती है।

वस्तु	अंकित मूल्य	विक्रय मूल्य
A	625	500
B	750	650
C	450	350
D	385	275
E	425	350

$$\text{छूट \%} = \left( \frac{\text{अंकित मूल्य} - \text{विक्रय मूल्य}}{\text{अंकित मूल्य}} \right) \times 100$$

निम्नलिखित में से कौन छूट प्रतिशत का सही क्रम है?

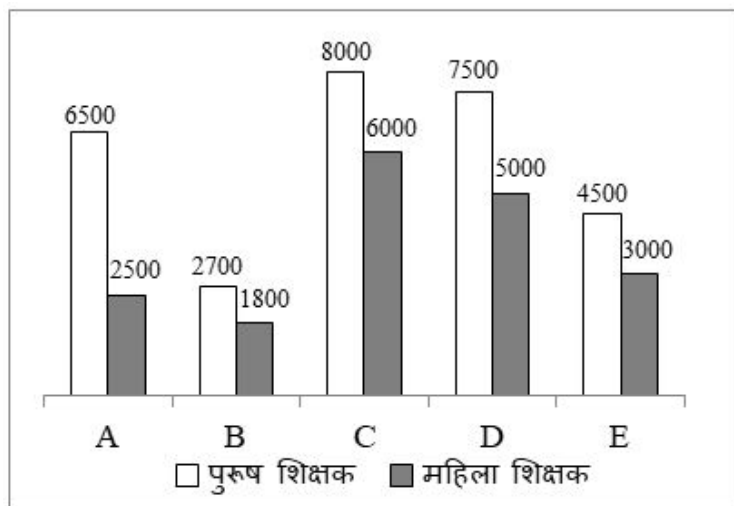
- Ans  1. C > D > A > E > B  
 2. D > C > A > E > B  
 3. E > A > C > D > B  
 4. A > C > D > E > B

Question ID : 2752289840

Status : Answered

Chosen Option : 2

Q.2 नीचे दिया गया दण्ड चित्र पाँच विभिन्न विश्वविद्यालयों A, B, C, D तथा E में पुरुष शिक्षकों और महिला शिक्षकों की संख्या को दर्शाता है।



विश्वविद्यालय C में पुरुष शिक्षकों की संख्या विश्वविद्यालय D में शिक्षकों (पुरुषों और महिलाओं को मिलाकर) की कुल संख्या का कितना प्रतिशत है?

- Ans
- 1. 84 प्रतिशत
  - 2. 74 प्रतिशत
  - 3. 54 प्रतिशत
  - 4. 64 प्रतिशत

Question ID : 2752289842

Status : Answered

Chosen Option : 4

Q.3 एक राशि पर 6 वर्षों का साधारण ब्याज 29250 रुपये है। पहले 2 वर्षों के लिए ब्याज की दर 7 प्रतिशत प्रतिवर्ष है तथा अगले 4 वर्षों के लिए 16 प्रतिशत प्रतिवर्ष है। राशि क्या है?

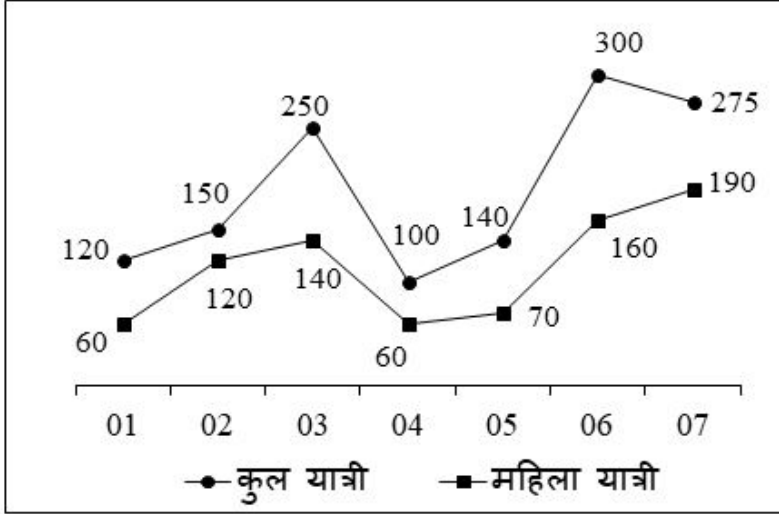
- Ans
- 1. 36600 रुपये
  - 2. 35400 रुपये
  - 3. 38300 रुपये
  - 4. 37500 रुपये

Question ID : 2752289836

Status : Not Attempted and Marked For Review

Chosen Option : --

Q.4 नीचे दिया गया रेखा चित्र एक सप्ताह में दिल्ली से मेरठ की यात्रा करने वाले कुल यात्रियों और महिला यात्रियों की संख्या को दर्शाता है।



यात्रियों की कुल संख्या = पुरुष यात्रियों की संख्या + महिला यात्रियों की संख्या।  
04 और 05 को यात्रा करने वाले पुरुष यात्रियों की कुल संख्या 07 को यात्रा करने वाले पुरुष यात्रियों की संख्या से कितने प्रतिशत अधिक है?

- Ans
- 1. 32.41 प्रतिशत
  - 2. 25.5 प्रतिशत
  - 3. 26.6 प्रतिशत
  - 4. 29.41 प्रतिशत

Question ID : 2752289841

Status : Answered

Chosen Option : 2

Q.5  $\frac{3}{4}, \frac{6}{7}, \frac{8}{9}$  का लघुत्तम समापवर्त्य क्या है?

- Ans
- 1. 24
  - 2. 12
  - 3. 48
  - 4. 96

Question ID : 2752289831

Status : Answered

Chosen Option : 1

Q.6 दो नाव एक दूसरे की तरफ क्रमशः 36 कि.मी./घंटा तथा 54 कि.मी./घंटा की गति से यात्रा कर रही है। टकराने से एक सेकण्ड पहले दोनों नावों के बीच की दूरी क्या होगी?

- Ans
- 1. 35 मीटर
  - 2. 25 मीटर
  - 3. 15 मीटर
  - 4. 10 मीटर

Question ID : 2752289837

Status : Answered

Chosen Option : 4

Q.7 यदि एक समचतुर्भुज के विकर्णों की लम्बाई 12 से.मी. तथा 16 से.मी. है, तो समचतुर्भुज का परिमाप क्या है?

- Ans
- 1. 15 से.मी.
  - 2. 10 से.मी.
  - 3. 40 से.मी.
  - 4. 30 से.मी.

Question ID : 2752289839  
Status : Answered  
Chosen Option : 2

Q.8 रमन ने 225 रुपये में दो कलम खरीदे। उसने एक को 30 प्रतिशत की हानि पर तथा दूसरे को 40 प्रतिशत के लाभ पर बेचा। यदि प्रत्येक कलम को समान मूल्य पर बेचा गया था, तो हानि पर बेचे गये कलम का क्रय मूल्य क्या है?

- Ans
- 1. 150 रुपये
  - 2. 160 रुपये
  - 3. 180 रुपये
  - 4. 120 रुपये

Question ID : 2752289834  
Status : Answered  
Chosen Option : 3

Q.9 गेहूँ के मूल्य में 20 प्रतिशत की वृद्धि के कारण उपभोक्ता अपनी खपत में 15 प्रतिशत की कमी कर देता है। कुल व्यय में कितने प्रतिशत का परिवर्तन हुआ है?

- Ans
- 1. 1.6 प्रतिशत
  - 2. 6 प्रतिशत
  - 3. 4 प्रतिशत
  - 4. 8 प्रतिशत

Question ID : 2752289833  
Status : Answered  
Chosen Option : 4

Q.10 8400 रुपये को P, Q तथा R के बीच क्रमशः  $\frac{2}{3} : 3 : \frac{1}{3}$  के अनुपात में विभाजित किया गया है। R का हिस्सा क्या है?

- Ans
- 1. 18000 रुपये
  - 2. 700 रुपये
  - 3. 1400 रुपये
  - 4. 900 रुपये

Question ID : 2752289835  
Status : Answered  
Chosen Option : 2

Q.11 5 घंटे प्रतिदिन कार्य करते हुए रूचि एक पुस्तक को 22 दिनों में लिख सकती है। उसी पुस्तक को 11 दिन में पढ़ने के लिए उसे प्रतिदिन कितने घंटे कार्य करना चाहिए?

- Ans
- 1. 2.5 घंटे
  - 2. 10 घंटे
  - 3. 12 घंटे
  - 4. 11 घंटे

Question ID : 2752289838  
Status : Answered  
Chosen Option : 1

Q.12 एक पतलून का अंकित मूल्य क्रय मूल्य का तीन गुना है। 20 प्रतिशत लाभ कमाने के लिए, छूट प्रतिशत क्या होनी चाहिए?

- Ans
- 1. 40 प्रतिशत
  - 2. 50 प्रतिशत
  - 3. 30 प्रतिशत
  - 4. 60 प्रतिशत

Question ID : 2752289832  
Status : Answered  
Chosen Option : 4

Section : General Aptitude or Reasoning

Q.1 एक विशिष्ट कोड भाषा में, 'TO' को '57' लिखा जाता है, 'OUR' को '81' लिखा जाता है। इस कोड भाषा में 'OPT' का कोड क्या है?

- Ans
- 1. 90
  - 2. 72
  - 3. 102
  - 4. 75

Question ID : 2752289850  
Status : Answered  
Chosen Option : 1

Q.2 निम्नलिखित प्रश्न में दिए गए विकल्पों में से विषम शब्द को चुनिए।

- Ans
- 1. आयोडीन
  - 2. पारा
  - 3. जस्ता
  - 4. सोडियम

Question ID : 2752289845  
Status : Answered  
Chosen Option : 2



Q.3 निम्नलिखित शब्दों को शब्दकोश में आने वाले क्रम के अनुसार लिखें।

1. TAIGO
2. TAILS
3. TALKY
4. TAMED
5. TACTS

- Ans
- 1. 54123
  - 2. 51324
  - 3. 51234
  - 4. 51243


Question ID : 2752289843  
Status : Answered  
Chosen Option : 2

Q.4 निम्नलिखित प्रश्न में दिये गए विकल्पों में से संबंधित संख्या युग्म चुनिए।  
168 : 225 :: ?

- Ans
- 1. 237 : 169
  - 2. 145 : 100
  - 3. 179 : 256
  - 4. 216 : 400

Question ID : 2752289855  
Status : Answered  
Chosen Option : 2

Q.5 निम्नलिखित प्रश्न में दिए गए विकल्पों में से प्रश्न चिन्ह (?) के स्थान पर आने वाली आकृति को चुनिए।



Ans

- 1.
- 2.
- 3.
- 4.

Question ID : 2752289859  
Status : Answered  
Chosen Option : 1

Q.6 निम्नलिखित प्रश्न में, दिये गए विकल्पों में से संख्याओं के विषम समूह को चुनिए।

- Ans  1. (225, 369, 490)  
 2. (105, 249, 370)  
 3. (148, 282, 413)  
 4. (95, 239, 360)

Question ID : 2752289856

Status : Answered

Chosen Option : 3

Q.7 एक विशिष्ट कोड भाषा में, 'PAIRED' को 'WVIRZK' लिखा जाता है। इस कोड भाषा में 'IMAGES' का कोड क्या है?

- Ans  1. HVTZNR  
 2. HVTYNR  
 3. HVTZMR  
 4. HUTZNR

Question ID : 2752289848

Status : Not Attempted and Marked For Review

Chosen Option : --

Q.8 नीचे दिए गए प्रश्न में कुछ कथन और उनके बाद उन कथनों पर आधारित कुछ निष्कर्ष दिए गए हैं। दिए गए कथनों को सही माने, चाहे उनमें सामान्य ज्ञात तथ्यों से भिन्नता हो। सभी निष्कर्ष पढ़ें और फिर निर्धारित करें कि दिए गए कौन से निष्कर्ष, दिए गए कथनों के आधार पर युक्तिसंगत हैं।

कथन:

- I. सभी A, B हैं।  
II. सभी B, D हैं।

निष्कर्ष:

- I. कुछ D, A हैं।  
II. कोई भी A, D नहीं है।  
III. कुछ D, B हैं।

- Ans  1. केवल निष्कर्ष I अनुसरण करता है  
 2. दोनों निष्कर्ष I तथा III अनुसरण करते हैं  
 3. केवल निष्कर्ष III अनुसरण करता है  
 4. सभी निष्कर्ष अनुसरण करते हैं

Question ID : 2752289853

Status : Answered

Chosen Option : 2

Q.9 पाँच पुरुष M1, M2, M3, M4 तथा M5 तथा पाँच महिलाओं W1, W2, W3, W4 तथा W5 में से छह सदस्यों की एक टीम चुनी जानी है। W2 तथा W5 साथ में नहीं चुने जा सकते हैं। M1 तथा W3 साथ में चुने जाने हैं। W3 तथा W4, M2 के साथ नहीं चुने जा सकते हैं। W1 तथा M5 साथ में नहीं चुने जा सकते हैं। M3 तथा M4 साथ में नहीं चुने जा सकते हैं।  
निम्नलिखित में से किन सदस्यों को चुना जा सकता है?

- Ans  1. M1, M3, W1, W3, W4  
 2. M1, M2, W1, W3, W5  
 3. M4, M5, W2, W4, W5  
 4. M4, M5, W1, W3, W4

Question ID : 2752289852  
Status : Answered  
Chosen Option : 1

Q.10 निम्नलिखित प्रश्न में, दिये गए विकल्पों में से संख्याओं के विषम समूह को चुनिए।

- Ans  1. (9, 36, 25)  
 2. (36, 49, 64)  
 3. (16, 25, 36)  
 4. (25, 36, 49)

Question ID : 2752289854  
Status : Answered  
Chosen Option : 1

Q.11 एक विशिष्ट कोड भाषा में, 'AT' को '21' लिखा जाता है, 'MAT' को '34' लिखा जाता है। इस कोड भाषा में 'PAD' का कोड क्या है?

- Ans  1. 24  
 2. 28  
 3. 21  
 4. 34

Question ID : 2752289847  
Status : Answered  
Chosen Option : 3

Q.12 एक विशिष्ट कोड भाषा में, 'Virat is good players' को '@ã#\$\$' लिखा जाता है, 'good players are batsmen' को '+#^@' लिखा जाता है, 'Virat knows good English' को '\*ã%#' लिखा जाता है। इस कोड भाषा में 'English batsmen are knows' का कोड क्या है?

- Ans  1. +%^@  
 2. #\*^+  
 3. ^+\*ã  
 4. \*^+%

Question ID : 2752289849  
Status : Answered  
Chosen Option : 2

Q.13 निम्नलिखित प्रश्न में दिए गए विकल्पों में से प्रश्न चिन्ह (?) के स्थान पर आने वाली संख्या को चुनिए।

256	144	174
148	324	209
95	225	64
309	243	?

- Ans
- 1. 307
  - 2. 291
  - 3. 319
  - 4. 297

Question ID : 2752289857

Status : Answered

Chosen Option : 2

Q.14 एक अनुक्रम दिया गया है, जिसमें से एक पद गलत है। दिए गए विकल्पों में से उस गलत पद को चुनिए।  
AVL, QZG, GDB, XHW, MLR

- Ans
- 1. GDB
  - 2. MCR
  - 3. QZG
  - 4. XHW

Question ID : 2752289844

Status : Answered

Chosen Option : 3

Q.15 निम्नलिखित प्रश्न में दिए गए विकल्पों में से संबंधित शब्दों को चुनिए।  
चिकित्सक : अस्पताल :: अध्यापक : ?

- Ans
- 1. दफ्तर
  - 2. विद्यालय
  - 3. फर्म
  - 4. एजेंसी

Question ID : 2752289846

Status : Answered

Chosen Option : 2

Q.16 सात व्यक्ति A, B, C, D, E, F तथा G एक पंक्ति में उत्तर की ओर मुख करके बैठते हैं (जरूरी नहीं की इसी क्रम में हो)। B तथा F के बीच में तीन व्यक्ति बैठते हैं। F, B के बायीं ओर बैठता है। A तथा D के बीच में दो व्यक्ति बैठते हैं। E तथा G के बीच में एक व्यक्ति बैठता है। F, G के दायीं ओर बैठता है। A अंतिम छोर पर नहीं बैठता है। बायीं से दायीं की ओर निम्नलिखित में से कौन सी बैठने की व्यवस्था सही है?

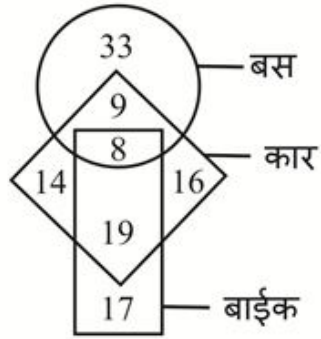
- Ans
- 1. GF EACBD
  - 2. GE FACBD
  - 3. GF EABCD
  - 4. GF EBACD

Question ID : 2752289851

Status : Answered

Chosen Option : 1

Q.17 कितनी कारें, बस हैं?



Ans ✓ 1. 17

✗ 2. 9

✗ 3. 50

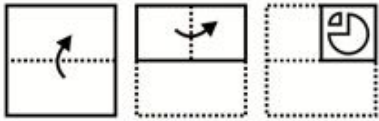
✗ 4. 8

Question ID : 2752289858

Status : Answered

Chosen Option : 1

Q.18 नीचे के प्रश्न आकृतियों में दिखाए अनुसार कागज को मोड़कर छेदने तथा खोलने के बाद वह किस उत्तर आकृति जैसा दिखाई देगा?



Ans

✓ 1.



✗ 2.



✗ 3.



✗ 4.



Question ID : 2752289860

Status : Marked For Review

Chosen Option : 4

Q.1 Rust of wheat is caused by \_\_\_\_\_.

- Ans  1. Fungi  
 2. Protozoans  
 3. Bacteria  
 4. Virus

Question ID : 2752289873  
Status : Answered  
Chosen Option : 1

Q.2 निम्नलिखित में से कौन सा/से कथन सही है/हैं?

- I. अम्ल लाल लिटमस को नीला कर देता है।  
II. क्षारक नीला लिटमस को लाल कर देता है।

- Ans  1. केवल I  
 2. केवल II  
 3. I तथा II दोनों  
 4. ना ही I ना ही II

Question ID : 2752289869  
Status : Answered  
Chosen Option : 3

Q.3 निम्नलिखित में से कौन सा/से कथन सही है/हैं?

- I. खुली वायु में कुछ दिन छोड़ देने पर सिल्वर की वस्तुएँ काली हो जाती हैं।  
II. कॉपर वायु में उपस्थित आद्र कार्बन डाइऑक्साइड के साथ अभिक्रिया करता है तथा एक हरे रंग की परत पा लेता है।

- Ans  1. I तथा II दोनों  
 2. ना ही I ना ही II  
 3. केवल II  
 4. केवल I

Question ID : 2752289871  
Status : Answered  
Chosen Option : 3

Q.4 L कोश में इलेक्ट्रॉनों की संख्या \_\_\_\_\_ होती है।

- Ans  1. 2  
 2. 8  
 3. 4  
 4. 16

Question ID : 2752289867  
Status : Answered  
Chosen Option : 2

Q.5 निम्नलिखित में से कौन सा एक धातु नहीं है?

- Ans
- 1. थैलियम
  - 2. इरिडियम
  - 3. कैडमियम
  - 4. सिलिकोन

Question ID : 2752289870  
Status : Answered  
Chosen Option : 4

Q.6 निम्नलिखित में से कौन सी अलैंगिक जनन की एक विधि है?

- I. खंडन  
II. परागण

- Ans
- 1. I तथा II दोनों
  - 2. ना ही I ना ही II
  - 3. केवल II
  - 4. केवल I

Question ID : 2752289875  
Status : Answered  
Chosen Option : 2

Q.7 एक उत्तल दर्पण में, जब बिंब अनंत पर होता है तो निम्नलिखित में से कौन सही है?

- I. प्रतिबिंब की प्रकृति आभासी तथा सीधी होती है  
II. प्रतिबिंब का साइज़ बिंदु के आकार होता है

- Ans
- 1. केवल I
  - 2. I तथा II दोनों
  - 3. ना ही I ना ही II
  - 4. केवल II

Question ID : 2752289863  
Status : Not Attempted and Marked For Review  
Chosen Option : --

Q.8 निम्नलिखित में से कौन सा प्रकाश के प्रकीर्णन से नहीं होता है?

- Ans
- 1. स्वच्छ आकाश का रंग नीला
  - 2. तारों का टिमटिमाना
  - 3. सूर्योदय तथा सूर्यास्त के समय रंग
  - 4. टिंडल प्रभाव

Question ID : 2752289862  
Status : Answered  
Chosen Option : 2

Q.9 सूक्ष्मजीव का निम्नलिखित में से कौन सा युग्म सही है?

- I. पैरामीशियम - शैवाल  
II. पेनिसिलिएम - प्रोटोजोआ

- Ans  1. केवल II  
 2. ना ही I ना ही II  
 3. I तथा II दोनों  
 4. केवल I

Question ID : 2752289878  
Status : Answered  
Chosen Option : 3

Q.10 बल के संदर्भ में निम्नलिखित में से कौन सा सही नहीं है?

- Ans  1. बल वस्तु की आकृति में परिवर्तन ला सकता है  
 2. बल गतिशील वस्तु की दिशा में परिवर्तन कर सकता है  
 3. बल एक अदिष्ट मात्र है  
 4. बल एक वस्तु को विराम की अवस्था से गति में ला सकता है

Question ID : 2752289865  
Status : Answered  
Chosen Option : 3

Q.11 निम्नलिखित में से कौन सा उपधातु है।

- Ans  1. बोरोन  
 2. हाइड्रोजन  
 3. गैलियम  
 4. इन्डियम

Question ID : 2752289868  
Status : Answered  
Chosen Option : 4

Q.12 निम्नलिखित में से कौन सा एक जंतु उक्तक है?

- I. एपिथेलियल  
II. पेशीय

- Ans  1. केवल II  
 2. ना ही I ना ही II  
 3. I तथा II दोनों  
 4. केवल I

Question ID : 2752289874  
Status : Not Attempted and  
Marked For Review  
Chosen Option : --



Q.13 निम्नलिखित में से कौन सा/से कथन सही है/हैं?

- I. कुछ धातु जल से अभिक्रिया कर धातु हाइड्रॉक्साइड और हाइड्रोजन गैस उत्पन्न करते हैं  
II. सामान्यतः अधातु जल से अभिक्रिया नहीं करते हैं

- Ans  1. केवल II  
 2. ना ही I ना ही II  
 3. I तथा II दोनों  
 4. केवल I

Question ID : 2752289872  
Status : Answered  
Chosen Option : 3

Q.14 गति का पहला नियम \_\_\_\_\_ का नियम भी कहा जाता है

- Ans  1. त्वरण  
 2. संवेग  
 3. वेग  
 4. जड़त्व

Question ID : 2752289861  
Status : Answered  
Chosen Option : 4

Q.15 निम्नलिखित में से कौन सा कथन सही है?

- I. स्वपोषी पोषण में पर्यावरण से सरल अकार्बनिक पदार्थ लिए जाते हैं  
II. विषमपोषी पोषण में दूसरे जीवों द्वारा तैयार किए जटिल पदार्थों का अंतर्ग्रहण होता है

- Ans  1. I तथा II दोनों  
 2. ना ही I ना ही II  
 3. केवल II  
 4. केवल I

Question ID : 2752289877  
Status : Answered  
Chosen Option : 1

Q.16 \_\_\_\_\_ के आंतरिक आस्तर पर अनेक अँगुलि जैसे प्रवर्ध होते हैं जिन्हें दीर्घरोम कहते हैं

- Ans  1. यकृत  
 2. पित्ताशय  
 3. क्षुद्रांत्र  
 4. बृहद्रांत्र

Question ID : 2752289876  
Status : Not Attempted and  
Marked For Review  
Chosen Option : --

Q.17 निम्नलिखित में से कौन सा सही है?

- Ans
- 1. द्रव्यमान पृथ्वी पर भिन्न भिन्न स्थानों पर भिन्न भिन्न होता है।
  - 2. भार पृथ्वी पर हर जगह सामान रहता है।
  - 3. किसी वस्तु का द्रव्यमान, वह बल है जिससे पृथ्वी उसे अपनी ओर आकर्षित करती है।
  - 4. सभी वस्तुएँ किसी तरल में डुबाने पर उत्प्लावन बल का अनुभव करती हैं।

Question ID : 2752289864  
Status : Answered  
Chosen Option : 2

Q.18 Which of the following is correct about friction?  
I. Rolling friction is smaller than the sliding friction  
II. Sliding friction is smaller than static friction

- Ans
- 1. Neither I nor II
  - 2. Both I and II
  - 3. Only II
  - 4. Only I

Question ID : 2752289866  
Status : Answered  
Chosen Option : 2

Section : Domain Knowledge

Q.1 1 नवंबर 2016 तक, एक विद्युत इंजन बड़े (इलेक्ट्रिक लोकोमोटिव फ्लीट) में \_\_\_\_\_ इंजन (लोकोमोटिव) शामिल थे।

- Ans
- 1. 2327
  - 2. 4327
  - 3. 5327
  - 4. 3327

Question ID : 2752289890  
Status : Not Attempted and Marked For Review  
Chosen Option : --

Q.2 Four words have been given, out of which three are alike in some manner and one is different. Select the one that is different.

- Ans
- 1. Mango
  - 2. Eucalyptus
  - 3. Rubber
  - 4. Poplar

Question ID : 2752289922  
Status : Answered  
Chosen Option : 4

Q.3 चार शब्द दिए गए हैं, जिनमें से तीन में किसी न किसी तरह की समानता है और एक भिन्न है। जो भिन्न है उसका चयन करें।

- Ans
- 1. रागी (Finger millets)
  - 2. कंगनी (Fox tail millet)
  - 3. धान (Paddy)
  - 4. ज्वार (Sorghum)

Question ID : 2752289919  
Status : Answered  
Chosen Option : 2

Q.4 कंपनी अधिनियम, 1956 के तहत रेल मंत्रालय की पूर्ण स्वामित्व वाली कंपनी भारतीय समर्पित माल दुलाई गलियारा निगम लिमिटेड (डेडिकेटेड फ्रेट कॉरिडोर कॉर्पोरेशन ऑफ इंडिया लिमिटेड) (DFCCIL) की स्थापना कब की गई थी?

- Ans
- 1. 30 अक्टूबर 2006
  - 2. 30 जनवरी 2006
  - 3. 30 मार्च 2006
  - 4. 30 जून 2006

Question ID : 2752289887  
Status : Answered  
Chosen Option : 1

Q.5 यदि सभी संख्याओं के मध्य के अंक को हटा दिया जाए और संख्या को पीछे की ओर से (उलटा) पढ़ा जाए, तो सबसे छोटी संख्या कौन-सी होगी?

- Ans
- 1. 98980
  - 2. 45677
  - 3. 62867
  - 4. 28789

Question ID : 2752289924  
Status : Not Attempted and Marked For Review  
Chosen Option : --

Q.6 निम्नलिखित में से कौन-सी, ग्राहक की जरूरतों की पहचान करने की प्रभावी विधि नहीं है?

Ans  1.

प्रभावी निर्णय लेने के लिए प्रतिक्रिया और अन्य जानकारी का प्रभावी उपयोग करना।

2.

ग्राहकों की प्रतिक्रिया रिकॉर्ड करने के विभिन्न तरीकों की तलाश करना।

3. उपलब्ध उत्पादों की विविधता के बारे में अवगत कराना।

4. ग्राहकों के साथ प्रभावी ढंग से संवाद करना।

Question ID : 2752289931

Status : Answered

Chosen Option : 1

Q.7 Four words have been given, out of which three are alike in some manner and one is different. Select the one that is different.

Ans  1. Physics

2. Social Science

3. Philosophy

4. Psychology

Question ID : 2752289926

Status : Answered

Chosen Option : 4

Q.8 भारतीय रेलवे का गठन पूर्व भारतीय रियासतों के स्वामित्व वाले \_\_\_\_\_ के एकीकरण द्वारा किया गया था।

Ans  1. 29 रेलवे

2. 31 रेलवे

3. 36 रेलवे

4. 42 रेलवे

Question ID : 2752289883

Status : Not Attempted and Marked For Review

Chosen Option : --

Q.9 यदि  $a \times b = 40$ ,  $b \times c = 72$ ,  $a \times c = 45$  और  $c \times d = 54$  हैं, तो  $d$  का मान क्या है?

Ans  1. 6

2. 26

3. 9

4. 2

Question ID : 2752289925

Status : Answered

Chosen Option : 1

Q.10 कर्मचारियों का/की \_\_\_\_\_, सभी पहलुओं में अद्वितीय होना चाहिए।

Ans

- ✗ 1. टैटू
- ✗ 2. शारीरिक हाव-भाव
- ✗ 3. श्रृंगार प्रसाधन
- ✓ 4. ड्रेस कोड

Question ID : 2752289936

Status : Answered

Chosen Option : 4

Q.11 महिला कर्मचारियों को निम्नलिखित में से कौन-सी सावधानियां बरतने की आवश्यकता होती है?

Ans

- ✓ 1. बालों पर कोई फूल नहीं लगाना वांछनीय होना चाहिए।
- ✗ 2. युवा ग्राहकों की पसंद से मैच करने के लिए बाल खुले रखना चाहिए।
- ✗ 3. नियमित अंतराल पर नाखूनों को सही से काटना या छोटा किया जाना चाहिए।
- ✗ 4. ट्रेंड से मैच करती कान की आकर्षक बाली पहननी चाहिए।

Question ID : 2752289937

Status : Answered

Chosen Option : 1

Q.12 चार शब्द दिए गए हैं, जिनमें से तीन में किसी न किसी तरह की समानता है और एक भिन्न है। जो भिन्न है उसका चयन करें।

Ans

- ✗ 1. बेंगलुरु
- ✓ 2. अगरतला
- ✗ 3. चेन्नई
- ✗ 4. हैदराबाद

Question ID : 2752289929

Status : Answered

Chosen Option : 1

Q.13 दिल्ली को पहली मेट्रो ट्रेन कब मिली थी?

- Ans
- 1. 1984
  - 2. 1989
  - 3. 1999
  - 4. 2002

Question ID : 2752289882  
Status : Answered  
Chosen Option : 1

Q.14 \_\_\_\_\_ is a result of loyal customers who minimise the cost of running a business because the amount spent on getting new customers is far more than retaining the present customers.

- Ans
- 1. Reduced marketing cost
  - 2. Attracting new customers
  - 3. Time to respond to competitive threats
  - 4. Trade leverage

Question ID : 2752289934  
Status : Answered  
Chosen Option : 1

Q.15 The financial sector in India is regulated by:

- Ans
- 1. The Union Bank of India
  - 2. The Reserve Bank of India
  - 3. The State Bank of India
  - 4. NABARD

Question ID : 2752289912  
Status : Answered  
Chosen Option : 2

Q.16 Customers expect almost all retailers to provide certain services. Which of the following is NOT one of the services?

- Ans
- 1. Provide discounts at customers' request
  - 2. Good appearance and behaviour
  - 3. Be able to recognise customer needs
  - 4. Identify customer expectations

Question ID : 2752289930  
Status : Answered  
Chosen Option : 1

Q.17 घरेलू उद्योगों के संरक्षण के लिए भारत किस व्यवस्था का पालन कर रहा था?

- Ans
- ✓ 1. आयात पर मात्रात्मक प्रतिबंध
  - ✗ 2. निर्यात पर मात्रात्मक प्रतिबंध
  - ✗ 3. विदेशी मुद्रा का अवमूल्यन
  - ✗ 4. भारतीय मुद्रा का अवमूल्यन

Question ID : 2752289913  
Status : Answered  
Chosen Option : 4

Q.18 चार शब्द दिए गए हैं, जिनमें से तीन में किसी न किसी तरह की समानता है और एक भिन्न है। जो भिन्न है उसका चयन करें।

- Ans
- ✗ 1. फ़ारेनहाइट
  - ✗ 2. केल्विन
  - ✗ 3. सेंटीग्रेड
  - ✓ 4. तापमान

Question ID : 2752289923  
Status : Answered  
Chosen Option : 4

Q.19 भारतीय रेलवे बोर्ड का गठन कब हुआ था?

- Ans
- ✗ 1. 1899
  - ✗ 2. 1904
  - ✓ 3. 1901
  - ✗ 4. 1906

Question ID : 2752289881  
Status : Answered  
Chosen Option : 2

Q.20 किस वर्ष चित्तरंजन लोकोमोटिव वर्क्स (CLW) में स्वदेशी विद्युत इंजनों के निर्माण शुरू किए गए थे?

- Ans
- ✓ 1. 1960
  - ✗ 2. 1972
  - ✗ 3. 1954
  - ✗ 4. 1967

Question ID : 2752289902  
Status : Answered  
Chosen Option : 1

Q.21 अधिक उपज देने वाली किस्मों को किस दौर में शुरू किया गया था?

- Ans
- 1. हरित क्रांति
  - 2. श्वेत क्रांति
  - 3. नीली क्रांति
  - 4. पीली क्रांति

Question ID : 2752289910  
Status : Answered  
Chosen Option : 1

Q.22 11 मई \_\_\_\_\_ को दक्षिण रेलवे में विद्युत कर्षण प्राप्त करने वाला मद्रास दूसरा मेट्रो शहर था।

- Ans
- 1. 1927
  - 2. 1925
  - 3. 1931
  - 4. 1929

Question ID : 2752289884  
Status : Not Attempted and Marked For Review  
Chosen Option : --

Q.23 \_\_\_\_\_ means industries that can produce machine tools that are, in turn, used for producing articles for current consumption.

- Ans
- 1. Cottage goods industry
  - 2. Natural goods industry
  - 3. Capital goods industry
  - 4. Trading goods industry

Question ID : 2752289903  
Status : Not Attempted and Marked For Review  
Chosen Option : --

Q.24 Privatisation implies \_\_\_\_\_ a government owned enterprise.

- Ans
- 1. strengthening the management of
  - 2. restricting private players from managing
  - 3. restricting private players to take control of
  - 4. shedding of the ownership or management of

Question ID : 2752289914  
Status : Answered  
Chosen Option : 3



Q.25 भारत में पहली रेल सेवा 16 अप्रैल 1853 को शुरू हुई और उस रेलगाड़ी ने कितनी दूरी तय की थी?

- Ans
- 1. 30 km
  - 2. 26 km
  - 3. 34 km
  - 4. 23 km

Question ID : 2752289879  
Status : Answered  
Chosen Option : 3

Q.26 Select the option that is related to the third word in the same way as the second word is related to the first word.

Thorn : Rose :: Vine : ?

- Ans
- 1. Berry
  - 2. Grapes
  - 3. Litchi
  - 4. Mango

Question ID : 2752289928  
Status : Answered  
Chosen Option : 1

Q.27 स्वतंत्रता के समय तक भारत में केवल \_\_\_\_\_ विद्युतीकृत ट्रैक थे।

- Ans
- 1. 388 rkm
  - 2. 300 rkm
  - 3. 343 rkm
  - 4. 374 rkm

Question ID : 2752289901  
Status : Not Attempted and Marked For Review  
Chosen Option : --

Q.28 निम्नलिखित में से किस पुस्तक में महात्मा गांधी ने कहा था कि 'वे (रेलवे) बुराई का प्रचार करते हैं'?

- Ans
- 1. सत्य के साथ मेरा प्रयोग (माई एक्सपेरिमेंट विद ट्रूथ)
  - 2. गाँधी के अनुसार भगवद गीता (द भागवत गीता अकाउंटिंग टू गाँधी)
  - 3. हिंद स्वराज
  - 4. पाथवे टू गाँड

Question ID : 2752289899  
Status : Not Attempted and Marked For Review  
Chosen Option : --

Q.29 Select the option that is related to the third word in the same way as the second word is related to the first word.

Freeze : Cold :: Vapour : ?

- Ans
- 1. Melt
  - 2. Liquid
  - 3. Heat
  - 4. Boil

Question ID : 2752289927  
Status : Answered  
Chosen Option : 4

Q.30 उस विकल्प का चयन करें जो निम्नलिखित श्रेणी में आगे आएगा।

97, 89, 83, ?

- Ans
- 1. 67
  - 2. 53
  - 3. 41
  - 4. 79

Question ID : 2752289921  
Status : Answered  
Chosen Option : 4

Q.31 यदि वस्तु प्रचुर मात्रा में हो जाती है, तो उसके मूल्य पर क्या प्रभाव रहेगा?

- Ans
- 1. स्थिर रहेगी
  - 2. गतिशील होगी
  - 3. बढ़ेगी
  - 4. घटेगी

Question ID : 2752289911  
Status : Answered  
Chosen Option : 4

Q.32 1963-64 में, \_\_\_\_\_ ई.एम.यू. (EMU) को पहली बार कलकत्ता क्षेत्र के सियालदह डिवीजन में शुरू किया गया था।

- Ans
- ✓ 1. BG 25 kV AC
  - ✗ 2. BG 100 kV AC
  - ✗ 3. BG 50 kV AC
  - ✗ 4. BG 75 kV AC

Question ID : 2752289892

Status : **Not Attempted and Marked For Review**

Chosen Option : --

Q.33 निम्नलिखित में से कौन-सा शहर स्वर्णिम चतुर्भुज का हिस्सा है?

- Ans
- ✗ 1. हैदराबाद
  - ✓ 2. चेन्नई
  - ✗ 3. अहमदाबाद
  - ✗ 4. रायपुर

Question ID : 2752289886

Status : **Answered**

Chosen Option : 2

Q.34 \_\_\_\_\_ के बाद, भाप इंजनों को चरणबद्ध तरीके से हटा दिया गया और उनकी जगह विद्युत एवं डीजल इंजनों ने ले ली।

- Ans
- ✓ 1. 1985
  - ✗ 2. 1983
  - ✗ 3. 1981
  - ✗ 4. 1987

Question ID : 2752289900

Status : **Answered**

Chosen Option : 1

Q.35 Government, consumer groups, business press and financial analysts are part of:

- Ans
- ✓ 1. influence markets
  - ✗ 2. supplier markets
  - ✗ 3. referral markets
  - ✗ 4. customer markets

Question ID : 2752289933

Status : **Answered**

Chosen Option : 4

Q.36 वर्ष 1952 में कितने रेलवे जोन अस्तित्व में थे?

- Ans
- ✓ 1. 6
  - ✗ 2. 4
  - ✗ 3. 8
  - ✗ 4. 10

Question ID : 2752289894  
Status : Answered  
Chosen Option : 1

Q.37 The \_\_\_\_\_ of a country is derived from the different sectors of the economy, namely the agricultural sector, the industrial sector and the service sector.

- Ans
- ✗ 1. Gross National Product
  - ✗ 2. Net Domestic Product
  - ✗ 3. Net National Product
  - ✓ 4. Gross Domestic Product

Question ID : 2752289907  
Status : Answered  
Chosen Option : 4

Q.38 गाजियाबाद-मेरठ-सहारनपुर खंड में विद्युत कर्षण किस वर्ष शुरू किया गया था?

- Ans
- ✗ 1. 2013-14
  - ✓ 2. 2015-16
  - ✗ 3. 2014-15
  - ✗ 4. 2012-13

Question ID : 2752289888  
Status : Not Attempted and Marked For Review  
Chosen Option : --

Q.39 23 जुलाई 1993 को, भारतीय रेलवे ने माल दुलाई और यात्री वर्ग के इंजनों के आयात हेतु ए.बी.बी.(ABB) ट्रांसपोर्टेशन, \_\_\_\_\_ के साथ अनुबंध पर हस्ताक्षर किए।

- Ans
- ✗ 1. डेनमार्क
  - ✗ 2. नीदरलैंड
  - ✓ 3. स्विट्ज़रलैंड
  - ✗ 4. इटली

Question ID : 2752289889  
Status : Not Attempted and Marked For Review  
Chosen Option : --

Q.40 पहला स्टीम लोको नंबर F-734 राजपुताना मालवा रेलवे के \_\_\_\_\_ में बनाया गया था।

- Ans
- 1. जैसलमेर कार्यशाला
  - 2. अलवर कार्यशाला
  - 3. जयपुर कार्यशाला
  - 4. अजमेर कार्यशाला

Question ID : 2752289880  
Status : Answered  
Chosen Option : 1

Q.41 चार नाम दिए गए हैं, जिनमें से तीन में किसी न किसी तरह की समानता है और एक भिन्न है। जो भिन्न है उसका चयन करें।

- Ans
- 1. इंदिरा गांधी
  - 2. सरदार वल्लभभाई पटेल
  - 3. जवाहरलाल नेहरू
  - 4. नरेंद्र मोदी

Question ID : 2752289920  
Status : Answered  
Chosen Option : 2

Q.42 भारतीय सांख्यिकी संस्थान (ISI) की स्थापना किसने की थी?

- Ans
- 1. गोपीनाथ कलियानपुर
  - 2. प्रशांत चंद्र महालनोबिस
  - 3. बी. पी. अधिकारी
  - 4. सी. आर. राव

Question ID : 2752289906  
Status : Answered  
Chosen Option : 4

Q.43 किसी अच्छी ग्राहक सेवा हेतु किस पर ध्यान देना चाहिए?

- Ans
- ✓ 1. ग्राहक के साथ एक गतिशील संबंध बनाना।
  - ✗ 2. लाभ अर्जन
  - ✗ 3. बिक्री करने के लिए बाध्यकारी स्थिति पैदा करना।
  - ✗ 4. आक्रामक विपणन

Question ID : 2752289932  
Status : Answered  
Chosen Option : 1

Q.44 जुलाई \_\_\_\_\_ से रेलवे विद्युतीकरण के लिए केंद्रीय संगठन में एक नियमित महाप्रबंधक की नियुक्ति की गई थी।

- Ans
- ✓ 1. 1987
  - ✗ 2. 1984
  - ✗ 3. 1989
  - ✗ 4. 1991

Question ID : 2752289885  
Status : Answered  
Chosen Option : 1

Q.45 विश्व व्यापार संगठन (WTO) की स्थापना कब हुई थी?

- Ans
- ✗ 1. 1997
  - ✓ 2. 1995
  - ✗ 3. 1993
  - ✗ 4. 1990

Question ID : 2752289916  
Status : Answered  
Chosen Option : 2

Q.46 पहली विद्युतीकृत उपनगरीय ट्रेन विक्टोरिया टर्मिनस (VT) और कुर्ला के बीच कब चली थी?

- Ans
- ✗ 1. 3 फरवरी 1927
  - ✓ 2. 3 फरवरी 1925
  - ✗ 3. 3 फरवरी 1919
  - ✗ 4. 3 फरवरी 1923

Question ID : 2752289891  
Status : Not Attempted and  
Marked For Review  
Chosen Option : --

Q.47 To increase the production of goods and services, the producers have to:

- Ans
- 1. adopt new technology
  - 2. study traditional means of production
  - 3. rely on agriculture
  - 4. increase the labour force

Question ID : 2752289908  
Status : Answered  
Chosen Option : 2

Q.48 सरकारी सार्वजनिक क्षेत्र उद्यम (PSE) को तीन नामों से जाना जाता है। निम्नलिखित में से कौन-सा नाम उन नामों में से नहीं है जिनके द्वारा PSE की पहचान की जाती है?

- Ans
- 1. महारत्न
  - 2. मिनीरत्न
  - 3. नवरत्न
  - 4. पंचरत्न

Question ID : 2752289915  
Status : Answered  
Chosen Option : 2

Q.49 समाजवादी समाज में, \_\_\_\_\_ तय करता/करती है कि समाज की जरूरतों के अनुसार किन वस्तुओं का उत्पादन किया जाना है।

- Ans
- 1. जनता
  - 2. बाजार
  - 3. समाज
  - 4. सरकार

Question ID : 2752289905  
Status : Answered  
Chosen Option : 2

Q.50 भारतीय रेलवे विद्युत अभियांत्रिकी संस्थान (इंडियन रेलवे इंस्टीट्यूट ऑफ इलेक्ट्रिकल इंजीनियरिंग) की स्थापना वर्ष 1988 में किस राज्य में की गई थी?

- Ans
- 1. तमिलनाडु
  - 2. गुजरात
  - 3. राजस्थान
  - 4. महाराष्ट्र

Question ID : 2752289897  
Status : Answered  
Chosen Option : 1

Q.51 Guwahati is the headquarters of the:

- Ans  1. North-East Frontier Railway  
 2. North-Western Railway  
 3. Northern Railway  
 4. North-Eastern Railway

Question ID : 2752289895  
Status : Answered  
Chosen Option : 4

Q.52 3-टियर ए.सी. (AC) कोच किस वर्ष शुरू किया गया था?

- Ans  1. 1997  
 2. 1993  
 3. 1984  
 4. 1987

Question ID : 2752289893  
Status : Answered  
Chosen Option : 3

Q.53 दी गई श्रेणी में निम्नलिखित से कौन-सा विकल्प आगे आएगा?

a - d, g - k, o - t, ?

- Ans  1. i - j  
 2. c - g  
 3. f - l  
 4. e - m

Question ID : 2752289918  
Status : Answered  
Chosen Option : 3



Q.54 योजना आयोग ने 1978 में रेल पहिया कारखाना संयंत्र (द रेलवे व्हिल फैक्टरी प्लांट) परियोजना के लिए कितनी लागत को मंजूरी दी?

- Ans
- 1. ₹ 166 करोड़
  - 2. ₹ 156 करोड़
  - 3. ₹ 146 करोड़
  - 4. ₹ 176 करोड़

Question ID : 2752289898

Status : **Not Attempted and Marked For Review**

Chosen Option : --

Q.55 The policy of 'land to the tiller' is based on the idea:

- Ans
- 1. that cultivators will take more interest
  - 2. that it will be beneficial to the state
  - 3. of market based ownership
  - 4. of community based ownership

Question ID : 2752289909

Status : **Answered**

Chosen Option : 3

Q.56 निम्नलिखित श्रेणी में अगला अनुपात कौन-सा आएगा?

1 : 2, 3 : 6, 4 : 8, ?

- Ans
- 1. 5 : 10
  - 2. 7 : 21
  - 3. 6 : 8
  - 4. 8 : 32

Question ID : 2752289917

Status : **Answered**

Chosen Option : 1

Q.57 If the actual experience of a customer with goods is more than the \_\_\_\_\_, the customer will be satisfied.

- Ans
- 1. product value
  - 2. maximum value
  - 3. minimum value
  - 4. perceived value

Question ID : 2752289938

Status : **Answered**

Chosen Option : 4

Q.58 एक बाजार अर्थव्यवस्था में, जिसे \_\_\_\_\_ भी कहा जाता है, केवल उन्हीं उपभोक्ता वस्तुओं का उत्पादन किया जाएगा, जिनकी मांग होती है।

Ans

- ✓ 1. पूंजीवाद
- ✗ 2. साम्यवाद
- ✗ 3. समाजवाद
- ✗ 4. मिश्रित अर्थव्यवस्था

Question ID : 2752289904

Status : **Not Attempted and Marked For Review**

Chosen Option : --

Q.59 चार संख्या दी गई हैं, जिनमें से तीन में किसी न किसी तरह की समानता है और एक भिन्न है। जो भिन्न है उसका चयन करें।

Ans

- ✗ 1. 1728
- ✗ 2. 512
- ✗ 3. 216
- ✓ 4. 1100

Question ID : 2752289935

Status : **Answered**

Chosen Option : 3

Q.60 दक्षिण-मध्य रेलवे में कितने डिवीजन हैं?

Ans

- ✗ 1. 2
- ✗ 2. 4
- ✗ 3. 8
- ✓ 4. 6

Question ID : 2752289896

Status : **Answered**

Chosen Option : 2